



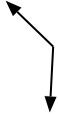
Determine if the angle shown is 'less', 'more' or 'equal' to 90°.

Answers

Ex)



1)



2)

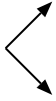


Ex. **less**

1. _____

2. _____

3)



4)



5)



3. _____

4. _____

5. _____

6)



7)



8)



6. _____

7. _____

8. _____

9)



10)



11)



9. _____

10. _____

11. _____

12)



13)



14)



12. _____

13. _____

14. _____

15)



16)



17)



15. _____

16. _____

17. _____

18)



19)



20)



18. _____

19. _____

20. _____

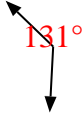


Determine if the angle shown is 'less', 'more' or 'equal' to 90°.

Ex)



1)

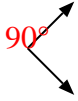


2)



Ex. less

3)



4)



5)



1. more

2. equal

3. equal

4. equal

5. more

6)



7)



8)



6. less

7. less

8. less

9)



10)



11)



9. less

10. equal

11. less

12)



13)



14)



12. more

13. more

14. less

15)



16)



17)



15. equal

16. less

17. equal

18)



19)



20)



18. equal

19. more

20. more